

s-E-Diagramme in realen Situationen

Dir sind die folgenden fünf Diagramme aus dem Unterricht bekannt:

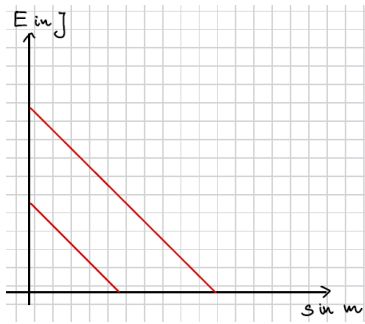


Diagramm 1

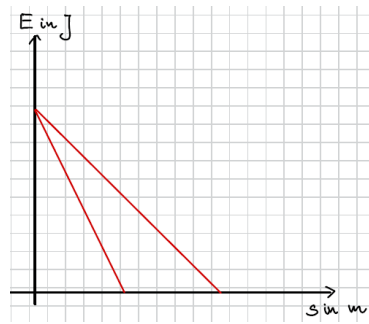


Diagramm 2

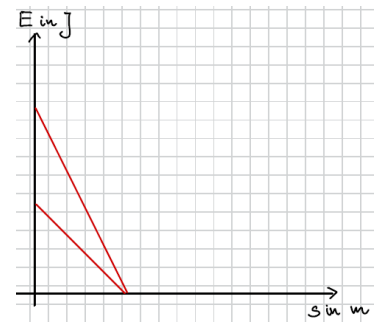


Diagramm 3

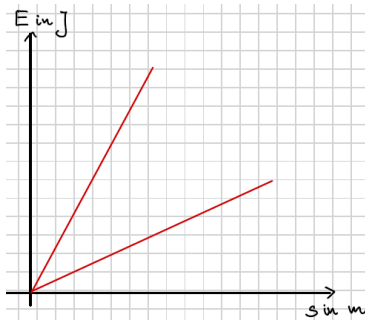


Diagramm 4

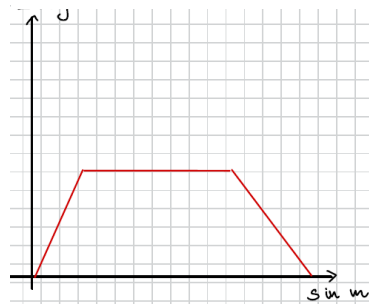


Diagramm 5

Aufgabe

Beschreibe zu jedem Diagramm eine reale Situation.

Zerschneide dein Arbeitsblatt so, dass jeweils eine Beschreibung auf jedem Zettel steht.

Tausche diese Beschreibungen mit deinem Partner.

Ordne die erhaltenen Beschreibungen den passenden Diagrammen zu.

Diskutiert eure Lösungen.

Beschreibung A:

Beschreibung B:

Beschreibung C:

Beschreibung D:

Beschreibung E: